

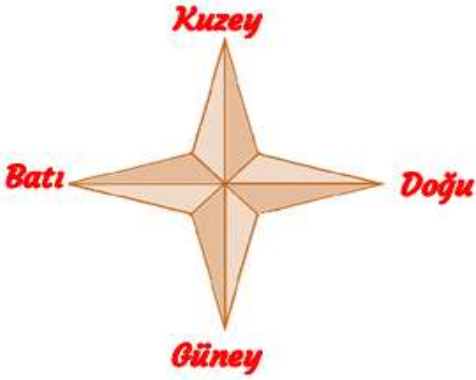
Adı : .....  
Soyadı: .....

2. Sınıf  
Hayat Bilgisi

Doğada Hayat  
Yönler

## YÖNÜMÜZÜ BULALIM

4 tane ana yön vardır.



- 1-Kuzey (K harfi ile kısa yazılır.)
- 2-Güney (G harfi ile kısa yazılır.)
- 3-Doğu (D harfi ile kısa yazılır.)
- 4-Batı (B harfi ile kısa yazılır.)

Yönlerimiz güneşin hareketlerine göre belirlenir. Güneş sabahları **doğudan** doğar. Akşamları da **batıdan** batar. Bu nedenle güneşin doğduğu yöne doğu, battığı yöne batı deriz. Güneş öğle vaktinde tam tepede bulunur. Bu durumda güneşin olduğu yön güneyi gösterir. Güneyin ters tarafı kuzeydir.



### Yönümüzü nasıl buluruz?

Güneşin doğduğu yönü bulunuz.


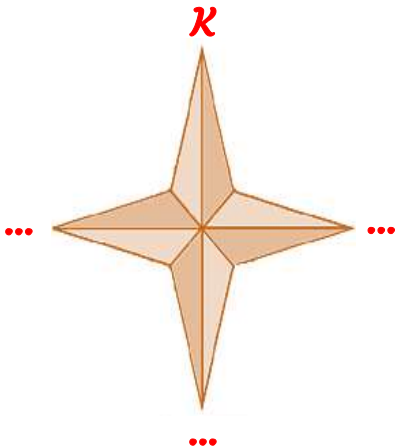
Sağ kolunuzu güneşin doğduğu yöne uzatınız. (Doğu)

Sol kolunuzu güneşin battığı yöne uzatınız. (Batı)

Önümüz (Kuzey)

Arkamız (Güney)

*Yönlerimizi yazalım.*

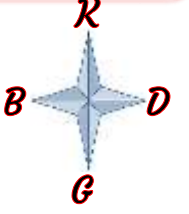


Adı : .....  
Soyadı: .....

2. Sınıf  
Hayat Bilgisi

Doğada Hayat  
Yönler

*Yönlerimizi yazalım. (Yön oklarına bakalım.)*



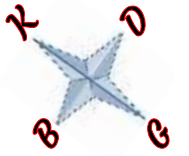
Çocuğun doğusunda .....var.

Çocuğun kuzeyinde .....var.

Çocuğun batısında .....var.

Çocuğun güneyinde .....var.

*Yönlerimizi yazalım. (Yön oklarına bakalım.)*



Ev çocuğun ..... tarafındadır.

Okul çocuğun ..... tarafındadır.

Ağaç çocuğun ..... tarafındadır.

Araba çocuğun ..... tarafındadır.

Adı : .....  
Soyadı: .....

2. Sınıf  
Hayat Bilgisi

Doğada Hayat  
Yönler

Çocukların oturdukları eve göre aşağıdaki boşlukları doldurunuz.



Emir



Çetin



Mustafa



Poyraz



Hilal



Şule



Ahsen



Güneş



Merve

Emirlerin doğusunda ..... oturuyor.

Hilallerin kuzeyinde ..... oturuyor.

Şulelerin güneyinde ..... oturuyor.

Mervelerin batısında ..... oturuyor.

Poyrazların güneyinde ..... oturuyor.

Güneşlerin batısında ..... oturuyor.

Çetinlerin doğusunda ..... oturuyor.

Mustafaların batısında ..... oturuyor.

Hilallerin batısında ..... oturuyor.

Güneşlerin doğusunda ..... oturuyor.

Poyrazların kuzeyinde ..... oturuyor.

Mervelerin kuzeyinde ..... oturuyor.

Adı : .....  
Soyadı: .....

2. Sınıf  
Hayat Bilgisi

Doğada Hayat  
Yönler

Haritaya göre şehirlerin komşularını yönlerine göre yazalım.



### ISPARTA

Kuzeyinde

Güneyinde

Batısında

Doğusunda

### ANKARA

Kuzeyinde

Güneyinde

Batısında

Doğusunda

### ERZİNCAN

Kuzeyinde

Güneyinde

Batısında

Doğusunda

### ANTALYA

Kuzeyinde

Güneyinde

Batısında

Doğusunda



Adı : .....  
Soyadı: .....

2. Sınıf  
Hayat Bilgisi

Doğada Hayat  
Yönler

*Boşlukları dolduralım.*

ana

güneşin

yönlerden

doğudan

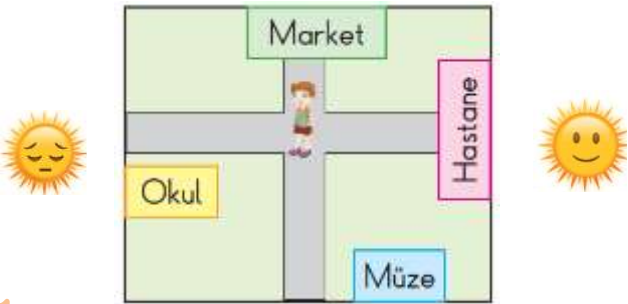
güney

- ☀ Güneş .....doğar, batıdan batar.
- ☀ Yönler .....hareketlerine göre belirlenir.
- ☀ Yönümüzü tarif etmek için 4 tane .....yön kullanırız.
- ☀ Önümüz kuzey ise arka tarafımız .....olur.
- ☀ Bir yerin bulunduğu yeri tarif ederken .....faydalanırız.

*Doğru mu? Yanlış mı?*

- ( ) Önümüz batıyı gösterirse arkamız güney olur.
- ( ) Güneş doğudan doğar, batıdan batar.
- ( ) Öğle vaktinde güneşin olduğu yön güneydir.
- ( ) Güneşin battığı tarafa döndüğümüzde arkamız kuzey olur.
- ( ) Yönlerimizi güneşin hareketleri ile belirleriz.

*Doğru seçeneği işaretleyelim.*



**1** Güneş hastane tarafından doğmaktadır. Müze çocuğa göre hangi yöndedir.

- (A) Güney
- (B) Batı
- (C) Kuzey

**2** Kaç tane ana yönümüz vardır?

- (A) 2
- (B) 4
- (C) 8

**3** Güneşin doğduğu ve battığı yönler hangileridir?


- (A) Kuzey-Güney
- (B) Doğu-Batı
- (C) Doğu-Kuzey

Adı : .....  
Soyadı: .....

2. Sınıf  
Hayat Bilgisi

Doğada Hayat  
Yönler

*Dikkatli okuyalım. Cevabını işaretleyelim. Nedenini açıklayalım.*



Yukarıdaki çocuk kutulu bölgelerde ilerleyecek. Her kutu 1 adım uzunluğunda. Buna göre,

Ok olan yerden başlayarak

Önce 3 adım doğuya gidiyor.

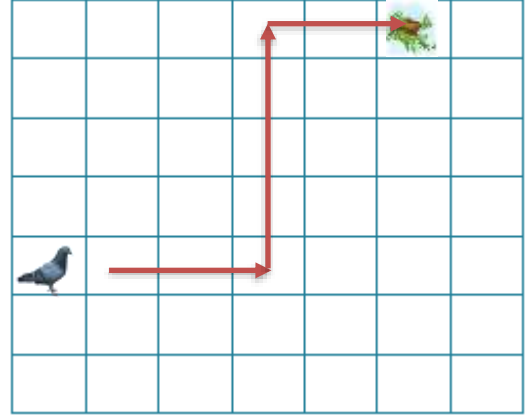
Sonra 3 adım güneye gidiyor.

Daha sonra 4 adım doğuya gidiyor.

Son olarak 3 adım kuzeye gidiyor.

*Çocuk hangi topa oynamaktadır?*

- ☐ A Basketbol topu
- ☐ B Futbol topu
- ☐ C Voleybol topu
- ☐ D Deniz topu



Yukarıdaki güvercin yuvasına gitmek istiyor. Yuvasına gitmesi için okları takip etmesi gerekiyor.

*Güvercinin kutu kutu izleyeceği yol hangisidir?*

- ☐ A Önce 3 kutu kuzeye sonra 5 kutu güneye daha sonra 2 kutu batıya
- ☐ B Önce 3 kutu doğuya sonra 5 kutu batıya daha sonra 2 kutu doğuya
- ☐ C Önce 3 kutu doğuya sonra 5 kutu kuzeye daha sonra 2 kutu doğuya
- ☐ D Önce 3 kutu doğuya sonra 5 kutu kuzeye daha sonra 2 kutu batıya